

Date : _____

Répertoire additif

1

a

b

c

d

e

f

Problèmes de partage équitable

2

Les 4 enfants veulent se partager ces 8 pommes.
Ils doivent en avoir tous le même nombre.
Combien de pommes chaque enfant aura-t-il ?



Chaque enfant aura pommes.

+

Les 4 enfants veulent se partager ces 12 billes.
Ils doivent en avoir tous le même nombre.
Combien de billes chaque enfant aura-t-il ?



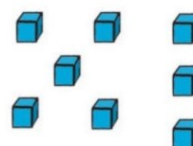
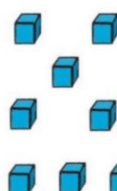
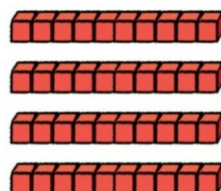
Chaque enfant aura billes.

Calcul réfléchi : addition

4

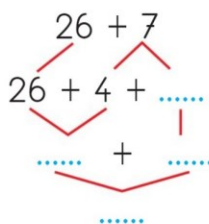
Utilise les cubes dessinés pour compléter ce calcul.

$$48 + 8 = \dots\dots\dots$$

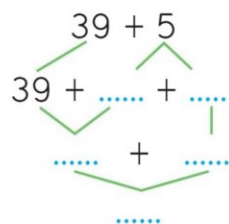


5

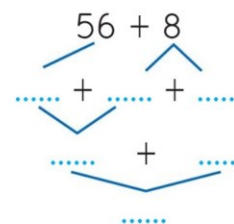
Utilise les arbres de calcul pour trouver les résultats.



$$26 + 7 = \dots\dots\dots$$



$$39 + 5 = \dots\dots\dots$$



$$56 + 8 = \dots\dots\dots$$